

제 4 교시

직업탐구 영역(인간 발달)

성명		수험 번호														제 [] 선택
----	--	-------	--	--	--	--	--	--	--	--	--	--	--	--	--	-------------

1. 다음 글에 나타난 발달의 원리로 적절한 것만을 <보기>에서 있는 대로 고른 것은?

프랑스 의사 브로카(Broca)는 뇌의 특정 부분이 손상되면 언어 표현에 어려움을 겪는다는 것을 발견하고, 뇌의 이 부분을 ‘브로카 영역’이라고 칭하였다. 브로카 영역이 손상된 환자는 발음이 정확하지 않으며 조사나 관사, 접속사 등을 생략하여 표현하는 등 말하는 것이 유창하지 않았다.

<보 기>

- ㄱ. 발달에는 개인 간의 차이가 있다.
- ㄴ. 발달의 각 영역은 서로 밀접한 관련이 있다.
- ㄷ. 발달은 지속적이지만 그 속도는 일정하지 않다.

- ① ㄱ ② ㄴ ③ ㄱ, ㄷ ④ ㄴ, ㄷ ⑤ ㄱ, ㄴ, ㄷ

2. 다음 대화에서 알 수 있는 아동 A가 속한 발달 단계에 대한 설명으로 옳은 것만을 <보기>에서 있는 대로 고른 것은? (단, 피아제의 도덕성 발달 이론에 근거한다.)

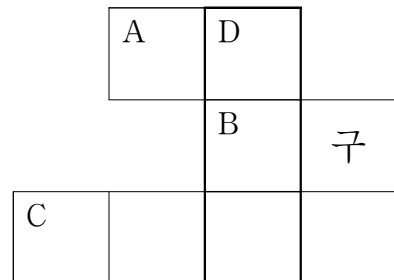
<p>유진이는 엄마를 기쁘게 해 드리려고 옷을 예쁘게 꾸미려다가 가위를 잘못 사용해서 옷에 큰 구멍을 뚫어요.</p>	<p>소라는 엄마가 외출한 사이에 엄마가 만지지 말라고 했던 가위를 가지고 놀다가 옷에 작은 구멍을 뚫어요.</p>
<p>아동 A</p>	<p>아동 A</p>
<p>둘 중에서 누가 더 잘못했다고 생각하나요?</p>	<p>유진이가 더 잘못했어요. 옷에 큰 구멍을 뚫었으니까요.</p>

<보 기>

- ㄱ. 타인의 입장을 이해할 수 있다.
- ㄴ. 구체적 조작기 다음 시기부터 나타난다.
- ㄷ. 이 단계 다음에 자율적 도덕성 단계가 나타난다.

- ① ㄱ ② ㄷ ③ ㄱ, ㄴ ④ ㄴ, ㄷ ⑤ ㄱ, ㄴ, ㄷ

3. 다음 낱말 퍼즐에서 (가)에 들어갈 내용으로 적절한 것은?



[가로 열쇠]

- A: 분만 과정에 이상이 생겨 분만 시간이 길어짐으로써 출산에 어려움을 겪는 것
 B: 무엇을 얻고자 하거나 무슨 일을 하고자 하는 바람
 C: 아기가 태어난 후 산모의 자궁에 붙어 있던 태반, 탯줄, 양막 등이 떨어져 나오는 시기

[세로 열쇠]

D: (가)

- ① 아기가 산도를 통해 모체 밖으로 나오는 시기
- ② 진통이 시작되어 자궁구가 완전히 열리는 시기
- ③ 수정란이 자궁벽에 착상한 후부터 임신 8주까지의 기간
- ④ 임신으로 인해 변화된 신체가 임신 전의 상태로 회복되는 시기
- ⑤ 배란 전 이미 사정된 정자가 생존 가능한 기간과 배란 후 난자가 생존 가능한 기간

4. 다음 글에서 ㉠, ㉡에 대한 설명으로 옳은 것만을 <보기>에서 있는 대로 고른 것은? (단, 마샤(Marcia, J.)의 자아정체감 유형에 근거한다.)

오늘 ○○성악 콩쿠르에서 좋은 성적을 거두었다. 상을 받는 순간 그동안의 일들이 스쳐 지나갔다. 어렸을 적 나의 부모님과 조부모님께서는 모두 음식점을 운영하셨다. ㉠ 부모님은 내가 가업을 이어받길 원하셨고 나도 당연히 그렇게 생각해서 조리학과에 진학하려고 하였다. 그런데 우연히 들어간 합창 동아리에서 노래를 부르면서 가슴 뛰는 희열을 느끼게 되었다. 그때 ㉡ 내가 정말 하고 싶은 일은 노래를 부르는 일이라고 생각했고, 조리사가 되기로 한 진로를 고민 끝에 수정하여 음악대학에 진학하였다. 그때의 선택이 지금의 나를 만들었다.

<보 기>

- ㄱ. ㉠은 정체감 유예 상태이다.
- ㄴ. ㉡은 위기를 경험하지 않고 의사 결정을 한 상태이다.
- ㄷ. ㉠과 ㉡은 과제를 수행하는데 전념하고 있는 상태이다.

- ① ㄱ ② ㄷ ③ ㄱ, ㄴ ④ ㄴ, ㄷ ⑤ ㄱ, ㄴ, ㄷ

2 (인간 발달)

직업탐구 영역

5. 다음 대화를 통해 알 수 있는 지유가 속한 시기의 발달 특성으로 가장 적절한 것은? [3점]

지유 엄마: 제가 육아 휴직을 하면서 지유와 집안에 있는 시간이 많아졌어요. 지유와 같은 시기의 아이들과 집에서 재밌게 놀 수 있는 방법을 알려 주세요.
승래 아빠: 쉽게 구할 수 있는 미역, 두부 등의 식재료를 만지고, 으깨면서 같이 오감놀이를 해 보세요. 아이와 즐거운 시간을 보낼 수 있으면서 애착도 형성할 수 있더라고요.
윤아 엄마: 저는 장난감을 숨겨 놓고 찾는 놀이를 해 봤어요. 아기가 보고 있는 동안에 장난감을 처음 숨겼던 곳에서 다른 곳으로 옮겨 숨기니, 처음 숨겼던 장소에서 장난감을 찾으려고 하더라고요.

- ① 조망수용이 가능하다.
② 물활론적 사고를 한다.
③ 사고의 중심화를 보인다.
④ 발명 철자를 만들어 쓴다.
⑤ 목적을 이루기 위한 의도적인 행동을 시작한다.

6. 다음 육아 일기에서 알 수 있는 하린이가 속한 발달 단계에 대한 설명으로 옳은 것은? (단, 프로이트의 심리성적 이론에 근거한다.) [3점]

2020년 ○월 ○일
오늘 깜짝 놀랄 일이 있었다. 잠시 분유를 타는 사이 하린이가 바닥에 떨어져 있던 자동차 키를 잡아 입으로 가져가고 있었다. 급하게 제지해서 다행히 입에 넣지는 않았다. 요즘 손에 닿는 것은 모두 입으로 가져가는 하린이 때문에 걱정이 되어 육아 서적을 꺼내 보았다. 뱃집 입에 가져가서 빨려고 하는 습성은 이 시기 아이들에게 자연스러운 현상이라고 적혀 있었다. 아이의 손을 깨끗하게 씻어 주고, 아이가 놀기에 안전한 집안 환경을 만들어 주어야겠다.

- ① 원초아가 지배적이다.
② 항문기 이후에 나타난다.
③ 고착되면 결벽증이 나타난다.
④ 동성 부모와의 동일시가 나타난다.
⑤ 리비도가 무의식 속에 잠재되어 있다.

7. 다음 글의 ㉠~㉢에 해당하는 여과망에 대한 설명으로 옳은 것은? (단, 우드리(Udry, R.)의 여과망 이론에 근거한다.)

A 씨는 친구를 통해 B 씨를 소개받았다. 처음에는 이상형의 ㉠ 외모와 성격이 아니라고 생각되어 마음이 끌리지 않았다. 그런데 ㉡ 같은 동네에 살아 마주칠 일이 많았다. 둘은 ㉢ 직업과 종교가 같아서 대화가 잘 통했으며 점차 서로 호감을 갖게 되었다. A 씨는 ㉣ 서로의 부족한 점을 채워 줄 수 있다고 생각하고, B 씨를 결혼 상대자로 고려하게 되었다.

- ① ㉠의 여과망은 연령, 교육 수준을 포함한다.
② ㉡는 첫 단계의 여과망이다.
③ ㉢의 여과망에서는 가치관, 인생관 등이 유사할수록 선택 가능성이 높다.
④ ㉣는 결혼 준비 상태의 여과망이다.
⑤ ㉠와 ㉡는 같은 여과망에 속한다.

8. 다음 시나리오를 통해 알 수 있는 연우와 준형이가 공통적으로 속한 시기의 발달 특성으로 적절한 것만을 <보기>에서 고른 것은? [3점]

장면 #1. 쉬는 시간, 여학생들이 이야기를 나누고 있다.
민지: 애들아, 옆 반 정호 너무 멋있지 않아?
명아: 지난 주 체육 대회 때 계주하는 모습을 보고 나도 반했어.
다빈: 연우야, 넌 어떻게 생각해?
연우: (동의 안 하면 욕먹을 분위기네.) 나도 그렇게 생각해.
장면 #2. 준형은 장면 #1의 대화를 멀리서 힐끗 쳐다보고 있다.
준형: (재네 또 내 얘기하나 봐. 바뀐 내 헤어스타일에 대해 얘기 하는 건가?)

<보 기>

- ㄱ. 개인적 우화가 나타난다.
ㄴ. 이상주의적 사고를 한다.
ㄷ. 집단적 독백이 두드러진다.
ㄹ. 결정성 지능이 일생 중 가장 높다.

- ① ㄱ, ㄴ ② ㄱ, ㄷ ③ ㄴ, ㄷ ④ ㄴ, ㄹ ⑤ ㄷ, ㄹ

9. 다음 대화에서 준서의 대답에 대한 근거로 옳은 것만을 <보기>에서 있는 대로 고른 것은?


준서: 우와! 새 옷장이네요.
엄마: 그래. 옷장을 새로 샀으니 이제 준서가 정리해 볼래?
네 칸이 있으니 어떻게 정리하면 좋을까?
준서: 여름옷을 바지와 티셔츠로, 겨울옷도 바지와 티셔츠로 각각 구분해서 넣을게요. 그럼 네 칸이 다 채워져요.

<보 기>

- ㄱ. 피아제에 의하면 유목화를 하기 때문이다.
ㄴ. 굴드에 의하면 합리적 사고를 하기 때문이다.
ㄷ. 리겔에 의하면 변증법적 사고를 하기 때문이다.

- ① ㄱ ② ㄷ ③ ㄱ, ㄴ ④ ㄴ, ㄷ ⑤ ㄱ, ㄴ, ㄷ

10. 그림에 나타난 지수가 속한 시기의 발달 특성을 조사하려고 한다. 이에 따른 과제 활동으로 적절한 것만을 <보기>에서 고른 것은? [3점]







<보 기>

- ㄱ. 쿠잉에 대해 알아본다.
ㄴ. 인공론적 사고에 대해 조사한다.
ㄷ. 제1 성장 급등기에 대해 찾아본다.
ㄹ. 확인 부가 의문문에 해당하는 사례를 찾아본다.

- ① ㄱ, ㄴ ② ㄱ, ㄷ ③ ㄴ, ㄷ ④ ㄴ, ㄹ ⑤ ㄷ, ㄹ

11. 다음은 피아제의 인지 발달 이론에 근거한 실험이다. 이를 통해 알 수 있는 학생의 사고 특성이 나타난 사례로 가장 적절한 것은? [3점]

최초 배열	변형된 배열
A 	A 
B 	B 
선생님: 두 막대기의 길이는 같은가요?	선생님: 두 막대기의 길이는 같은가요?
학 생: 네, 같아요.	학 생: 네, 같아요.

* 단, A와 B 두 막대기의 길이는 같음.

- 정의를 무엇이고 행복은 무엇일까에 대하여 생각한다.
- 다양한 크기의 블록을 크기가 큰 순서대로 쌓을 수 있다.
- a가 b보다 크고, b가 c보다 크면, a가 c보다 크다는 것을 안다.
- 종이비행기를 접었다가 펼치면 원래 크기의 종이 된다는 것을 안다.
- 여러 가지 색상의 물감을 계획을 세워 섞으면서 자신이 원하는 색상으로 만들어 낸다.

- [12~13] 다음은 친구 간의 대화이다. 물음에 답하시오.

A 씨: 저번에 한 소개팅은 어떻게 됐어?
 B 씨: 그녀는 내가 찾던 이상형이어서 첫눈에 반했어. 그 사람 생각만 해도 가슴이 두근거려. 오래 만나지 않아 아직 친하지는 않지만... 평생 그 사람과랑 함께하고 싶어서 결혼하기로 마음먹었어. 너는 여자 친구랑 잘 지내?
 A 씨: 응, 잘 만나고 있어.
 B 씨: 그렇구나. 지난번에 만났을 때는 여자 친구 때문에 고민이 많더니 잘됐네.
 A 씨: 그런데 요즘 갱년기로 우울해 하는 어머니 때문에 걱정이야. 자식으로서 어머니를 도와드리고 싶은데...
 B 씨: 어머니와 많은 시간을 함께 보내는 건 어때? 영화도 보고 외식도 하면서.

12. 위 대화에서 알 수 있는 A 씨의 어머니가 속한 시기의 발달 특성으로 적절한 것만을 <보기>에서 고른 것은?

<보 기>

ㄱ. 여성은 에스트로겐의 분비가 증가한다.
 ㄴ. 손가락과 손 움직임의 정교성이 절정에 달한다.
 ㄷ. 에릭슨에 의하면 이 시기의 발달 과업은 생산성 획득이다.
 ㄹ. 융에 의하면 남성은 직전 시기에 비해 아니마가 더 표출된다.

- ① ㄱ, ㄴ ② ㄱ, ㄷ ③ ㄴ, ㄷ ④ ㄴ, ㄹ ⑤ ㄷ, ㄹ

13. 위 대화에서 알 수 있는 B 씨의 사랑을 스톤버그의 사랑의 삼각형 이론에 근거하여 분석한 내용으로 옳은 것은?

- 공허한 사랑에 해당한다.
- 열정의 요소가 빠지면 우정 같은 사랑이 된다.
- 친밀감의 요소가 더해지면 낭만적 사랑이 된다.
- 상대방에 대해 동반자적 감정을 갖는 사랑이다.
- 사랑의 동기 유발적 요소와 인지적 요소가 결합된 사랑이다.

14. 다음 게시판에서 A~C의 답변을 통해 알 수 있는 피임법에 대한 설명으로 가장 적절한 것은? [3점]

○○카페 게시판
2주 전에 둘째 아이를 출산한 워킹맘입니다. 직장생활 때문에 셋째는 계획하고 있지 않아요. 저와 비슷한 분들은 어떻게 피임하셨는지 궁금합니다.
↳ A 자궁 내에 장치를 넣었어요.
↳ B 저는 기초 체온을 측정해서 배란일을 체크했어요.
↳ C 저는 의사의 처방 없이 피임약을 약국에서 구입하여 매일 복용했습니다.

- A의 피임법은 정자가 질 내로 들어가는 것을 막는 방법이다.
- B의 피임법은 점액의 상태를 관찰하여 배란일을 측정하는 방법이다.
- C는 호르몬을 조절하여 피임하는 방법을 활용하였다.
- A는 피임 패치, C는 사후 피임약을 활용하였다.
- A~C의 피임법은 영구적인 피임 방법이다.

15. 다음 글을 통해 알 수 있는 반사 운동 ㉠, ㉡에 대한 설명으로 옳은 것만을 <보기>에서 있는 대로 고른 것은?

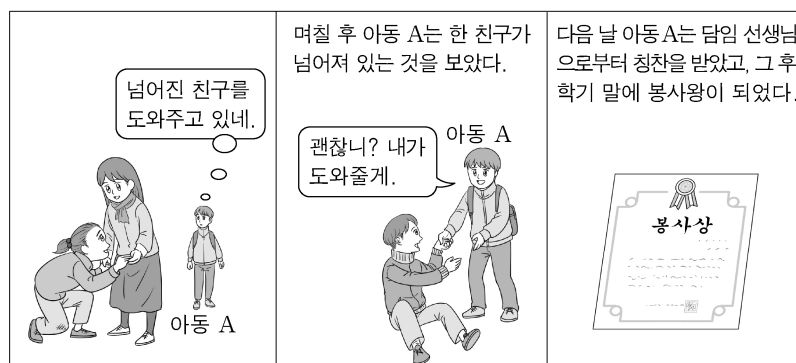
신생아 반사는 신생아가 외부 자극에 대해 무의식적이고 자동적으로 반응하는 것입니다. 그 예로 ㉠엄마가 아기를 안았다가 내려놓으면, 아기가 갑자기 팔을 폈다가 껴안듯이 움츠립니다. 또 다른 예로 ㉡아기 발을 뒤꿈치에서 발가락 방향으로 만지면 아기는 엄지발가락을 뒤로 젖히고 발가락을 부채처럼 폈다가 오므립니다. 이러한 반응은 중추 신경계의 하부 영역에 의해 관장되기 때문에 이를 통해 아기의 신경과 근육의 성숙도를 파악할 수 있습니다.

<보 기>

ㄱ. ㉠은 엄마 젖을 찾는데 도움이 된다.
 ㄴ. ㉡은 바빈스키 반사이다.
 ㄷ. ㉠과 ㉡은 원시 반사에 해당된다.

- ① ㄱ ② ㄴ ③ ㄱ, ㄷ ④ ㄴ, ㄷ ⑤ ㄱ, ㄴ, ㄷ

16. 그림에서 아동 A의 사례에 적용할 수 있는 인간 발달 이론에 대한 설명으로 가장 적절한 것은? [3점]



- 인간의 욕구에는 일정한 위계가 있다.
- 인간에게는 양육자와 애착을 형성하려는 본능이 있다.
- 인간은 지식을 일관성 있게 체계화하거나 범주화한다.
- 최적의 발달 수준에 도달하기 위해 근접 발달 지대가 중요하다.
- 학습에는 주의, 기억, 운동 재생, 동기 유발의 과정이 필요하다.

4 (인간 발달)

직업탐구 영역

17. 다음 관찰 일지에 나타난 세영이와 동준이의 사례를 분석한 내용으로 옳은 것만을 <보기>에서 있는 대로 고른 것은? [3점]

관찰 일지

작성자: 햇님반 교사 ○○○

자유놀이 시간에 세영이와 동준이가 각각 크레파스와 도화지를 가져와 미술영역에서 자신의 도구로 각자 그림을 그렸다. 세영이는 주말에 가족들과 바닷가에 갔던 장면을 그렸고, 동준이는 자신이 좋아하는 공룡을 그렸다.




놀이 시간이 끝난 후 내가 세영이에게 그림 속의 바지 입을 여자 아이를 가리키며 누구냐고 묻자, 세영이는 여동생이라고 대답했다. 그러자 옆에 있던 동준이가 자신은 남자라서 바지를 입었으니 그림 속의 아이는 남자라고 말했다. 세영이는 동생이 바지를 입어도 치마를 입어도 본인처럼 여자라고 하였다.

<보 기>

- ㄱ. 파튼에 의하면 두 아동의 놀이는 평행 놀이에 해당한다.
 ㄴ. 피아제에 의하면 두 아동의 놀이는 규칙이 있는 게임에 해당한다.
 ㄷ. 콜버그에 의하면 두 아동은 성 역할 발달에서 성 정체성을 확립한 상태이다.

- ① ㄱ ② ㄴ ③ ㄱ, ㄷ ④ ㄴ, ㄷ ⑤ ㄱ, ㄴ, ㄷ

18. 다음 (가)~(다)의 상황을 스키너의 행동주의 이론에 근거하여 분석한 내용으로 옳은 것만을 <보기>에서 고른 것은? [3점]

 <p>엄마.</p> <p>아이가 우연히 '엄마'라는 소리를 낸다.</p>	 <p>우와! 우리 아기가 드디어 엄마라고 말을 했네.</p> <p>엄마가 밝게 웃으며 아이에게 말하고, 아이는 그것을 바라본다.</p>	 <p>엄마. 엄마. 엄마.</p> <p>아이가 엄마의 밝은 웃음을 보고 싶어서 계속 '엄마'라는 소리를 낸다.</p>
(가)	(나)	(다)

<보 기>

- ㄱ. (가)에서 아이의 '엄마'라는 소리는 조작적 행동이다.
 ㄴ. (나)에서 엄마의 '밝은 웃음'은 강화물이다.
 ㄷ. (다)에서 아이는 '엄마'라는 소리와 엄마의 '밝은 웃음'과의 관계를 학습한 상태이다.
 ㄹ. (나)와 (다)의 과정에서 부적 강화가 일어났다.

- ① ㄱ, ㄴ ② ㄱ, ㄷ ③ ㄴ, ㄷ ④ ㄴ, ㄹ ⑤ ㄷ, ㄹ

19. 다음 대화에서 ㉠~㉣를 피아제의 인지 발달 이론에 근거하여 분석한 것으로 옳은 것만을 <보기>에서 고른 것은? [3점]

다연: ㉠ (개울가에 있는 오리를 가리키며) 이모! 닭이에요.
 이모: (다연을 바라보며) 아니야. 오리야.
 다연: ㉡ (오리를 자세히 바라보며) 깃털이 있고 다리가 두 개 있는데 닭이 아니라고요?
 이모: 응. 깃털이 있고 다리가 두 개 있지만 부리가 뽕족하고 발가락 사이에 물갈퀴가 없는 것은 닭이고, 부리가 넓적하고 발가락 사이에 물갈퀴가 있는 것은 오리야.
 다연: ㉢ (이모의 설명을 들은 후) 아, 그래서 저건 닭이 아니고 오리구나. (옆에 보이는 오리를 가리키며) 이모, 또 오리가 있어요.

<보 기>

- ㄱ. ㉠은 기존의 도식을 변경한 것이다.
 ㄴ. ㉡은 인지적 불균형 상태이다.
 ㄷ. ㉢은 새로운 자극이 기존의 지식과 유사하여 갈등 없이 수용된 것이다.
 ㄹ. ㉠~㉢의 과정을 통해 인지적 구조가 평형을 이루게 되었다.

- ① ㄱ, ㄴ ② ㄱ, ㄷ ③ ㄴ, ㄷ ④ ㄴ, ㄹ ⑤ ㄷ, ㄹ

20. 다음 글에 나타난 A 씨의 태도를 노년기 성격 적응 유형에 근거하여 분석한 것으로 가장 적절한 것은? (단, 라이카드(Reichard, S.) 등의 노년기 적응 유형에 근거한다.)

A 씨는 102세이다. 그에게 장수의 비결이 무엇인지를 묻자, 산책과 신문 읽기라고 했다. 기분 전환을 위해 꾸준히 산책을 했으며, 시대의 흐름을 알기 위해 매일 아침 신문을 읽었다. 그는 감정 컨트롤과 스트레스 대처에 능했으며, 삶의 만족도가 높았다. 나이가 들었다고 나쁜 것만은 아니며, 가장 중요한 것은 노년기를 긍정적으로 바라보는 시선이라고 했다.

- ① 젊은 사람을 부러워하지 않으며 열등감이 많다.
 ② 과거에 집착하지 않으며 미래에 대한 두려움이 없다.
 ③ 신체적 능력의 저하를 막아 보려 애쓰며 더 바쁘게 활동한다.
 ④ 복잡한 사회생활에서 벗어나 조용히 지내는 것을 다행으로 생각한다.
 ⑤ 시대적 상황으로 인해 젊은 시절 목표를 달성하지 못하고 늙어 버린 것에 비통해 한다.

* 확인 사항

- 답안지의 해당란에 필요한 내용을 정확히 기입(표기)했는지 확인 하시오.